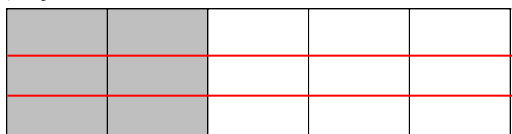



6/24 數 4 題 (不用抄題目，但要寫題號，算式寫整齊，較難計算的要有直式，答案要寫清楚！)

1. $\frac{28}{5}$ 用小數怎麼表示？

2. 有兩片大小都相同的巧克力，佩佩吃了 $\frac{2}{5}$ 片，多莉吃了 $\frac{8}{15}$ 片，誰剩的比較多？

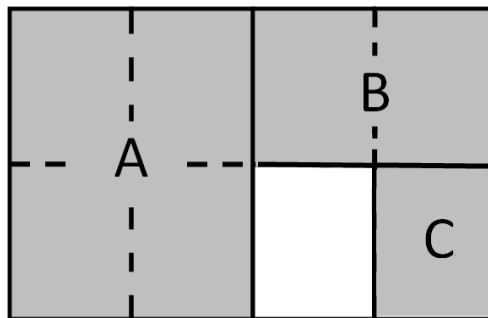


佩佩



多莉

3.



A、B、C 各占全部圖形的幾分之幾？並將分數化成小數。

	分數	=	小數
A	<input type="text"/>	=	<input type="text"/>
B	<input type="text"/>	=	<input type="text"/>
C	<input type="text"/>	=	<input type="text"/>

4. $3\frac{4}{10}$ 到 $3\frac{55}{100}$ 之間，最大的二位小數是多少？最小的二位小數是多少？