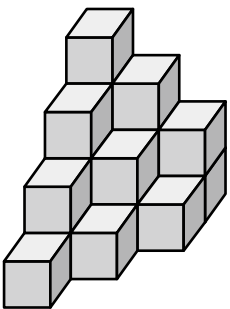


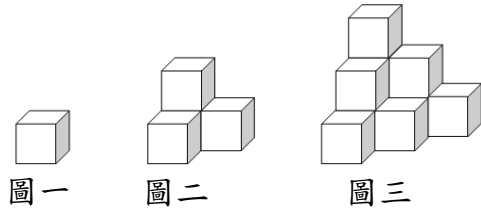
6/25 數 4 題 (不用抄題目，但要寫題號，算式寫整齊，較難計算的要有直式，答案要寫清楚！)



1. 昕惠用 1 立方公分的積木堆疊成一個長方體，已知每層有 84 個，體積是 1848 立方公分，這個長方體共堆了幾層？

2. 每個積木的體積是 1 立方公分，下面形體的體積是多少立方公分？



3. 每個的體積都是 1 立方公分。下面形體都是依據相同的規則排列，請算出圖五形體的體積是多少立方公分？



4. 每個  的體積都是 1 立方公分。下面的盒子中，共可裝入多少個  ？體積是多少立方公分？

