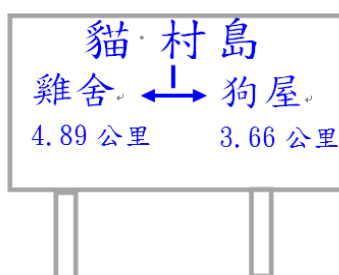


6/28(一) 四年級數學 8 題 (不用抄題目，但要列出橫式、直式、答，必要時要加文字說明或畫圖說明。)

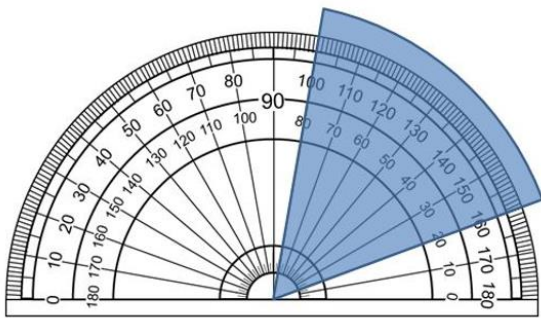
1. 玲玲在文具店買了 8 個相同的資料夾，付給老闆 1000 元，找回 408 元。一個資料夾是多少元？  
【減法與除法兩步驟計算】
2. 有三個裝滿水的瓶子，A 瓶子可以倒滿 13 個 100 毫升的量杯；B 瓶子倒在 1 公升的容器裡，還差 300 毫升才會滿；C 瓶子可以剛好裝 11 個 100ml 的養樂多瓶。哪一個瓶子裝得多？  
【公升與毫升換算並比較大小】
3. 臺北國小規畫 500 公里的 5 天騎單車畢業校外教學。家偉前 3 天共騎了 270 公里，依照這樣的騎法，5 天共可以騎多少公里？家偉可以完成單車校外教學的任務嗎？  
【整數四則併式解題並計算】
4. 哥哥買了 5 片比薩，吃了  $1\frac{5}{6}$  片，還剩下多少片比薩？  
【假帶分數互換並進行同分母分數的減法計算】
5. 從下圖可以知道，從貓村島到狗屋的距離是 3.66 公里，請問從雞舍到狗屋的距離是多少公里？  
【二位小數的加法計算】



6. 仁虹把周長 520 公分的長方形剪成 4 個正方形(如下圖), 每個正方形的周長是多少公分? 【正方形和長方形的周長】

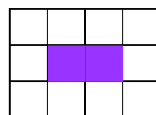


7. 家家用圓形色紙剪了一個圖形, 她把這個圖形的頂點對準量角器的中心點 (如圖), 下圖的角是多少度? 【量角器角度的報讀】

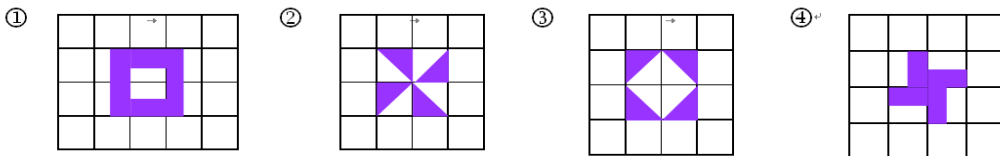


8. 【簡單圖形的切割重組】

在方格紙上有 2 個大小相同的塗色正方形方格切割重組後, 不能排成下列哪一個圖形?



將這 2 個正方形切



要寫出答: \_\_\_\_\_, 因為 \_\_\_\_\_