

活動2 公噸、公斤

- ① 填入適當的單位。(公噸、公斤或公克)
- 一輛貨車的重量大約是 15(公噸)。
 - 一條口紅膠的重量大約是 21(公克)。
 - 郵局包裹的重量上限是 20(公斤)。
 - 一臺電風扇的重量大約是 4(公斤)。
 - 一顆柳丁的重量大約是 170(公克)。

課 P120 練習題

② 填填看。

- 72 公斤 = (0.072) 公噸
- 625 公斤 = (0.625) 公噸
- 800 公斤 = (0.8) 公噸
- 2670 公斤 = (2.67) 公噸
- 4600 公斤 = (4.6) 公噸

課 P121

- ③ 估估看，下面動物的體重大約和幾個體重是 60 公斤的人合起來一樣重？

課 P121 練習題

動物	 大象	 河馬
重量	6 公噸	3 公噸 600 公斤
大約和幾個體重是 60 公斤的人一樣重	100 個人	60 個人





④ 填填看。

課 P122 ③

- 10 公噸 = (10000) 公斤
- 6.3 公噸 = (6300) 公斤
- 5.8 公噸 = (5) 公噸 (800) 公斤
- 2.09 公噸 = (2) 公噸 (90) 公斤
- 7 公噸 583 公斤 = (7.583) 公噸 = (7583) 公斤
- 9 公噸 80 公斤 = (9.08) 公噸 = (9080) 公斤

⑤ 下面是佳佳超市 6 月分各類貨品的進貨量。

課 P123 ④

 蔬菜類 8.96 公噸	 水果類 4050 公斤	 肉類 3 公噸 270 公斤	 雜貨類 ? 公噸
--	--	---	---

- (1) 蔬菜類和水果類總共進貨多少公噸多少公斤？
- $$8.96 \text{ 公噸} = 8 \text{ 公噸} 960 \text{ 公斤}$$
- $$4050 \text{ 公斤} = 4 \text{ 公噸} 50 \text{ 公斤}$$
- $$8 \text{ 公噸} 960 \text{ 公斤} + 4 \text{ 公噸} 50 \text{ 公斤} = 13 \text{ 公噸} 10 \text{ 公斤}$$

答：13 公噸 10 公斤

- (2) 6 月分平均一天的肉類進貨量是多少公斤？
- $$3 \text{ 公噸} 270 \text{ 公斤} = 3270 \text{ 公斤}$$
- $$3270 \div 30 = 109$$

答：109 公斤

- (3) 佳佳超市每天固定進 0.036 公噸的牛肉，一星期牛肉進貨量共有多少公噸？
- $$0.036 \times 7 = 0.252$$

答：0.252 公噸

- (4) 佳佳超市 6 月分的總進貨量是 20 公噸 15 公斤。其中雜貨類的進貨量是幾公噸？
- $$13 \text{ 公噸} 10 \text{ 公斤} + 3 \text{ 公噸} 270 \text{ 公斤} = 16 \text{ 公噸} 280 \text{ 公斤}$$
- $$20 \text{ 公噸} 15 \text{ 公斤} - 16 \text{ 公噸} 280 \text{ 公斤} = 3 \text{ 公噸} 735 \text{ 公斤} = 3.735 \text{ 公噸}$$

答：3.735 公噸